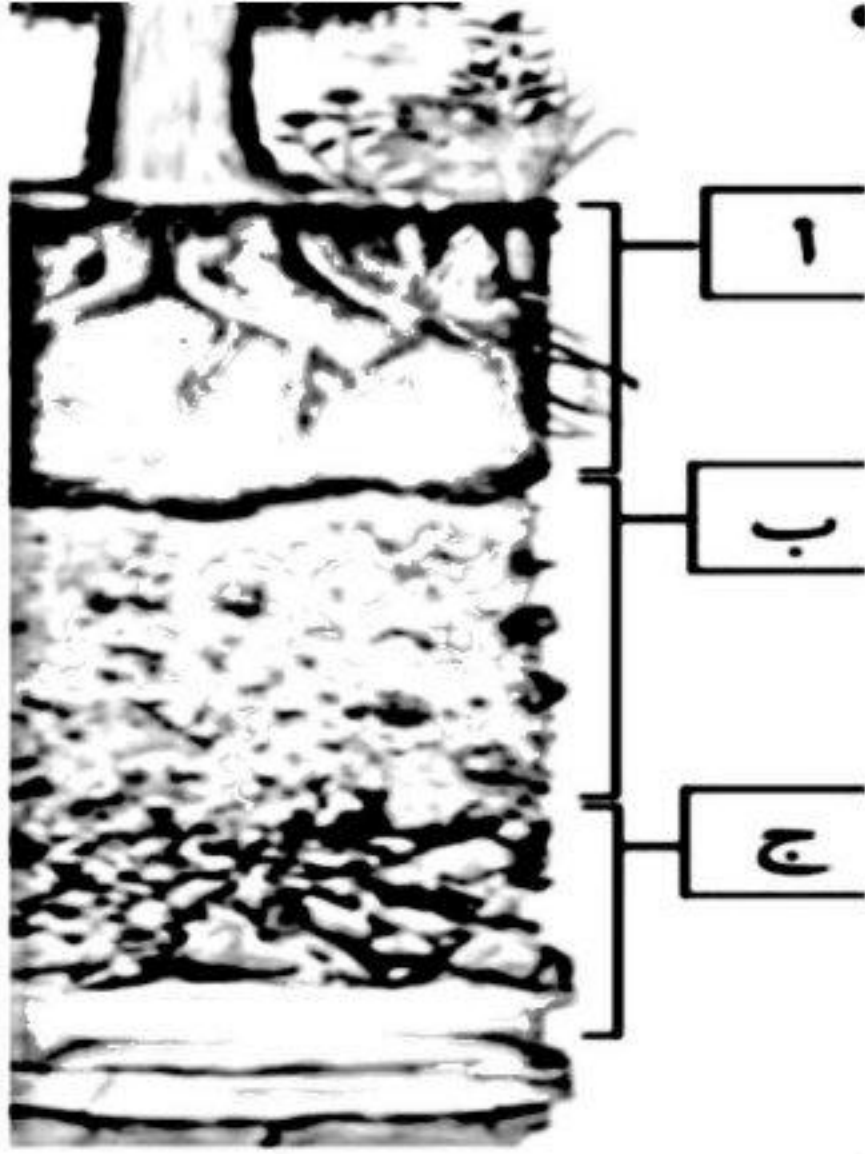


مثال 1


أي طبقة من التربة في الشكل التالي تحتوي معظم المواد الغذائية؟



مثال 2			مما يتكون نطاق التربة ؟
أ	صلصال	ب	من صخور كبيرة
ج	من صخور مفتت	د	دبال

مثال 3

يمثل الشكل التالي نطاقات التربة المختلفة ما المواد الموجودة بشكل اساسي في النطاق ( أ ):



مثال 3	يمثل الشكل التالي نطاقات التربة المختلفة ما المواد الموجودة بشكل اساسي في النطاق ( أ ):		
أ	صخور صلبة ومتماسكة	ب	دبال
ج	فتات صخري وحصى كبيرة	د	طين

مثال 4	تتكون التربة من فتات الصخور والمعادن وقليل من بقايا النباتات		
أ	صح	ب	خطأ

التربة السطحية تحتوي على:			مثال 5
ماء أقل	ب	ماء أكثر	أ
دبال أقل	د	دبال أكثر	ج

مثال 6	ما المصدر الرئيس لمادة الدبال في التربة		
أ	بقايا المخلوقات الحية	ب	الفتات الصخري
ج	الماء	د	الطين

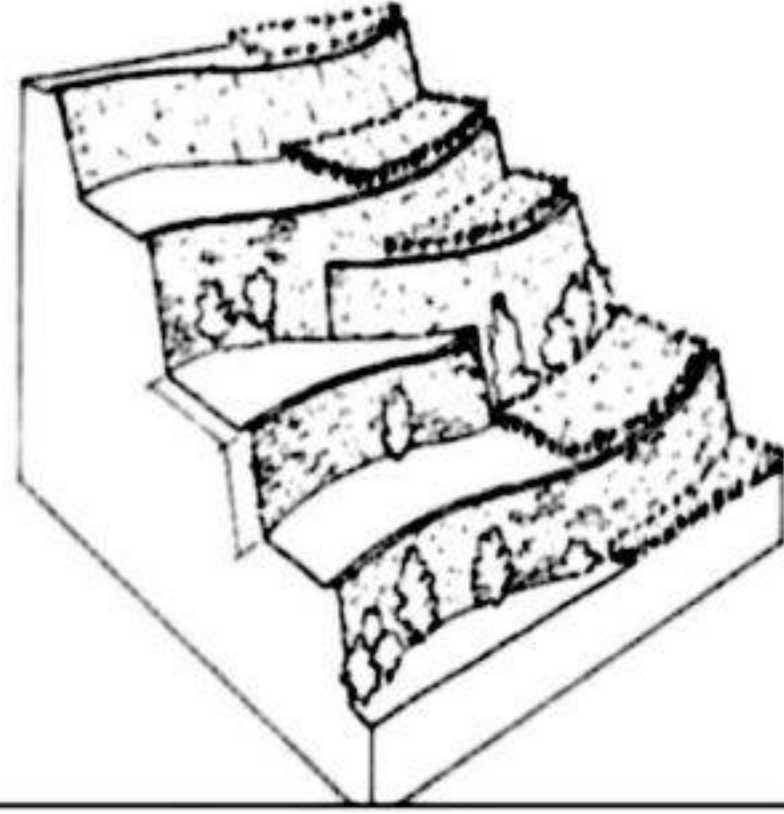
مثال 7	للتربة أماكن مختلفة لكل منها خصائص حيث يناسب كل نوع من التربة نباتات وحيوانات معينة للعيش فيها حيث تكون تربة الغابات ....		
أ	رملية قليلة الدبال	ب	غنية بالمعادن
ج	غنية بالدبال وصالحة للزراعة	د	ذات طبقة رقيقة قليلة الدبال .

مثال 8	يسمى الجزء الصخري من سطح الأرض		
أ	اللب	ب	القشرة الأرضية
ج	الستار	د	الغلاف المائي



مثال 9	تحتاج النباتات الى الكثير من المغذيات لنموها حيث تقوم بالحصول عليها من التربة و تتجدد هذه المغذيات بشكل طبيعي عند موت النباتات وطمرها وتحللها في التربة حيث من اسباب استهلاك التربة		
أ	التلوث	ب	قطع الأشجار
ج	زراعة النباتات	د	استخدام الأسمدة

مثال 10 أي طرق حفظ التربة يظهر في الشكل التالي؟



أ	الأشرطة المتبادلة	ب	مصدات الرياح
ج	المصاطب	د	الحراثة الكنتورية

مثال 11	من طرق المحافظة على التربة وتساعد جذور النباتات على عدم الانجراف ويعمد المزارعون لزرع أنواع أخرى من الأعشاب بين صفوف المزروعات الأخرى .		
أ	تسميد	ب	مصدات الرياح
ج	حراثة كنتورية	د	أشرطة متبادلة

مثال 12	أي طرق حفظ التربة تؤدي الى زيادة النتروجين وتثبيتته في التربة؟		
أ	مصدات الرياح	ب	الحراثة الكنتورية
ج	الأشرطة المتبادلة	د	الدورة الزراعية

مثال 13	كيف تساعد الدورة الزراعية على حفظ التربة؟		
أ	تحافظ على الماء بالقرب من جذور النباتات	ب	تساعد على حفظ التربة من الانجراف
ج	تعيد المواد المغذية للتربة	د	تعمل على إزالة المواد المغذية للتربة

مثال 14 اياً مما يلي ليس من طرق المحافظة على التربة

المصاطب المدرجة	ب	الأشرطة المتبادلة	أ
إزالة النبات	د	الحراثة الكنتورية	ج

السؤال	1	2	3	4	5	6	7	8	9	10	11	12	13	14
الاجابة	ب	ب	ب	أ	د	أ	د	ب	أ	ج	د	د	ج	د